

No.21

5年 組 番 名前 (

① 805 - 8 = 797

② 13.7 x 9 = 123.3

③ 14 ÷ 0.7 = 20

④ 6 x 4 - 3 x 5 = 9

⑤ 6 x (3 + 2) = 30

⑥ 80 - 30 ÷ 5 = 74

⑦  $1 \frac{1}{3} - \frac{2}{3} = \frac{4}{3} - \frac{2}{3} = \frac{2}{3}$

⑧  $\frac{1}{3} + \frac{3}{5} = \frac{5}{15} + \frac{9}{15} = \frac{14}{15}$

⑨ 一万二千四十七 12047 数字で書きましょう

⑩ 十万八百四十三 100843 数字で書きましょう

⑪ 2, 4, 6, 8 の4枚のカードをそれぞれ1回ずつ使って整数を作りましょう。

一番小さい数 2468

一番大きい数 8642

6000に一番近い数 6248

⑫ 午後6時30分から午後7時20分までの時間

50分

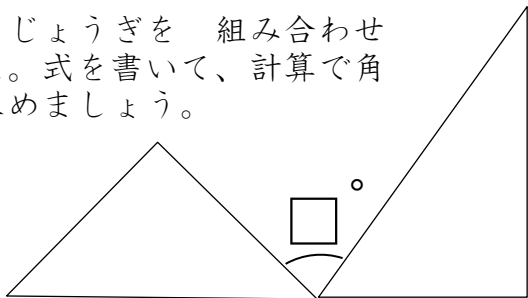
⑬ 1時間45分と35分を合わせた時間

2時間20分

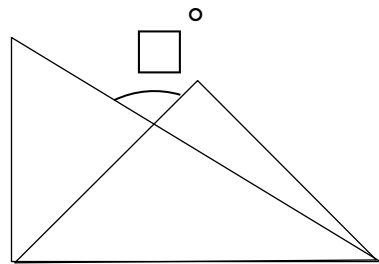
⑭ 6mの重さが 3kgの木材があります。この木材の1mの重さは、何kgですか。求める式と答えを書きましょう。

(式)  $3 \div 6 = 0.5$  答え ( 0.5 kg )

⑮ 三角じょうぎを 組み合わせました。式を書いて、計算で角度を求めましょう。



(式)  $180 - (45 + 60) = 75$   
答え ( 75° )



(式)  $180 - (45 + 60) = 75$   
 $180 - 75 = 105$   
答え ( 105° )

**No.22**

5年 組 番 名前 (

①  $243 - 67 = 176$

②  $27 \times 3.2 = 86.4$

③  $912 \div 4 = 228$

④  $(60 - 30) \times 5 = 150$

⑤  $8 - 0.4 = 7.6$

⑥  $30 + 120 \times 2 = 270$

⑦  $2\frac{4}{7} + \frac{5}{7} = 2\frac{9}{7}$   
 $= 3\frac{2}{7}$

⑧  $\frac{3}{4} + \frac{2}{3} = \frac{9}{12} + \frac{8}{12}$   
 $= \frac{17}{12}$   
 $= 1\frac{5}{12}$

⑨ 十万三千八百六 103806 数字で書きましょう

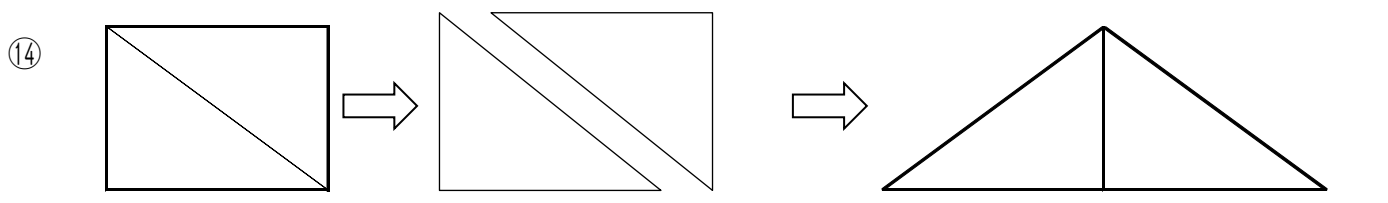
⑩ 四万二千五十七 40257 数字で書きましょう

⑪ 1, 3, 5, 7 の4枚のカードをそれぞれ1回ずつ使って整数を作りましょう。

3500に一番近い数 3517 一番大きい数 7531 7000に一番近い数 7135

⑫ 午後7時15分から午後8時35分までの時間 1時間20分

⑬ 1時間5分と2時間35分を合わせた時間 3時間40分



長方形を1本の対角線で2つに切りました。これを組み合わせて、別の図形を作りました。

\*組み合わせてできた図形の面積は、もとの長方形の面積と比べると、どれだけの大きさになりますか。1~4までの中から1つ選んで、その記号を書きましよう。

1 面積は、0.5倍になる。      2 面積は、1.5倍になる。      4

3 面積は、2倍になる。      4 面積は、変わらない。

\*組み合わせてできた図形の名前を書きましよう。 二等辺三角形